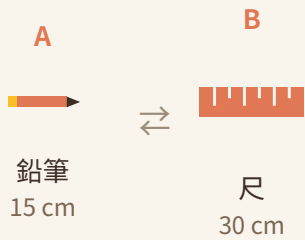




量度比較 — 長度與重量

比較物件嘅長度 (cm/m) 同重量 (g/kg)，第一題為示範，其他自行填入 A 或 B

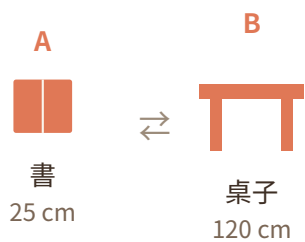
1 長度 哪個較長？



答：

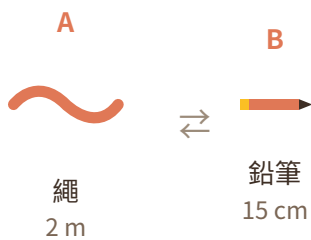
B

2 長度 哪個較長？



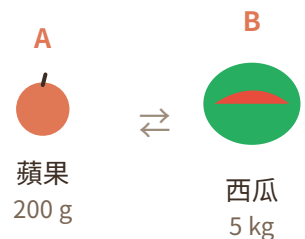
答：

3 長度 哪個較長？



答：

4 重量 哪個較重？




答：



5 重量 哪個較重？


A



老鼠
30 g

\rightleftharpoons

B



單車
12 kg

答：

6 重量 哪個較重？

A



單車
12 kg

\rightleftharpoons

B



大象
3000 kg

答：